

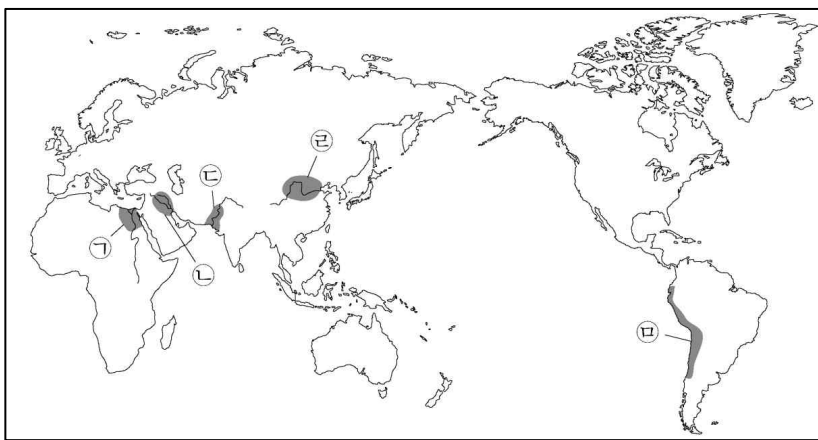
돌담길 모의평가(세계사)

성명

수험번호

1. (가) 문명의 발생 지역을 지도에서 옳게 고른 것은? [3점]

기자의 사막 고원에 있는 대피라미드는 고대 (가) 문명의 제4왕조 제2대 파라오인 쿠푸의 무덤으로 알려져 있다. 이는 기자의 피라미드들 가운데 가장 크고 오래되었으며, 건축 방법에 대한 의문점은 아직도 해결되지 않고 있어 세계 7대 불가사의 중 하나로 거론되기도 한다.



- ① ㉠
- ② ㉡
- ③ ㉢
- ④ ㉣
- ⑤ ㉤

2. 밑줄 친 '황제'의 재위 시기에 있었던 사실로 옳은 것은?

황제는 대장군, 누선장군 등을 파견하여 남으로 남월을 멸망시켜 일곱 군을 세우고, 북으로 흉노를 물리쳐 다섯 개의 속국을 건설하였으며, 동으로 조선을 정벌하고 낙랑군 등을 설치하였다. 또한 서쪽으로 대만을 격파하여 서른 여섯 나라를 겸병하고, 오손과 손을 잡아 세 군을 세웠다. ... (중략)... 변방이 안정되고 강역을 개척하여 변경을 넓히자 십여 군을 더 설치하였다.

- ① 분서갱유가 단행되었다.
- ② 제자백가가 출현하였다.
- ③ 한화 정책이 추진되었다.
- ④ 균수법·평준법이 실시되었다.
- ⑤ 진승·오광의 난이 발생하였다.

3. (가)에 들어갈 내용으로 가장 적절한 것은? [3점]

○○에 대해 알아보기

종교 : 테오도시우스 때 이르러 크리스티교가 국교로 선정

건축 : 도로와 수도 시설 발달. 콜로세움, 공중목욕탕 등 건설

(가)

- ① 정치 : 부족제 개편, 500인 평의회 설치
- ② 법률 : 리키니우스법, 호르텐시우스법 등 제정
- ③ 전쟁 : 아케메네스 왕조 페르시아와 이집트 정복
- ④ 문학 : 호메로스의 "일리아드"와 "오디세이아" 등 탄생
- ⑤ 교육 : 모든 남자 시민에게 집단생활과 군사 훈련 실시

4. 밑줄 친 '아들'에 대한 설명으로 옳은 것은?

아버지께서는 정복지인 라벤나 지방과 펜타폴리스를 교황께 기증하여 교황과의 유대를 공고히 하셨다. 아들인 나는 아버지의 뜻을 이어 혼란에 빠진 교회의 지위를 회복하는데 전념하고자 한다. 비록 로마인들이 게르만인인 내게 반감을 가질지라도, 기꺼이 견뎌 내고 서로마 황제의 호칭을 받아들일것노라.

- ① 궁정 학교를 설립하였다.
- ② 베르딩 조약을 체결하였다.
- ③ 시칠리아 왕국을 건설하였다.
- ④ 카롤루스 왕조를 개창하였다.
- ⑤ 투르·푸아티에 전투에서 승리하였다.

5. 밑줄 친 '주인공'에 대한 설명으로 옳은 것은? [3점]



사진은 이란의 자그로스 산맥에 있는 베히스툰 비문이다. 19차례의 반란을 딛고 왕권을 지킨 비문의 주인공은 자신의 즉위를 정당화하기 위해 '왕의 길'의 중심지에 비문을 새겼다. 그는 또한 '왕의 눈', '왕의 귀'라 불리는 감찰관을 파견하여 지방을 감시하였다.

- ① 리디아를 정복하였다.
- ② 조로아스터교를 창시하였다.
- ③ 비잔티움 제국과 대립하였다.
- ④ 칼링가 전투에서 승리하였다.
- ⑤ 화폐와 도량형을 정비하였다.

6. 밑줄 친 '제국'에 대한 설명으로 옳은 것만을 <보기>에서 고른 것은?

이 제국은 그리스 정교를 바탕으로 그리스·로마 문화와 헬레니즘 문화를 융합하여 독자적인 문화를 발전시켰다. 특히 제국의 황제 유스티니아누스가 세운 성 소피아 성당은 다양한 문화 양식을 합친 새로운 양식의 결정체이다.

<보 기>

- ㄱ. 티마르제를 실시하였다.
- ㄴ. 라틴 제국을 수립하였다.
- ㄷ. 황제 교황주의를 추구하였다.
- ㄹ. 옛 로마 제국 영토의 상당 부분을 회복하였다.

- ① ㄱ, ㄴ ② ㄱ, ㄷ ③ ㄴ, ㄷ ④ ㄴ, ㄹ ⑤ ㄷ, ㄹ

7. (가), (나) 왕조에 대한 설명으로 옳은 것은? [3점]

[가]의 서북쪽에 위치한 탕구트족이 [나]을/를 세우고 황제라 칭하였으며, [가]에 동등한 관계를 요구하였다. 이 문제로 두 왕조가 대립하면서 삼천구 전투, 호수전 전투를 벌인 끝에 화의를 맺었다. 주요 내용은 [나]이/가 신하의 예를 취하는 대신 [가]은/는 막대한 물자를 제공한다는 것이었다.

- ① (가) - 과거제를 폐지하였다.
- ② (가) - 튀양으로 천도하였다.
- ③ (나) - 색목인을 우대하였다.
- ④ (나) - 고유 문자를 사용하였다.
- ⑤ (나) - (가)의 수도를 함락하고 화북 지역을 차지하였다.

8. 밑줄 친 '황제'에 대한 설명으로 옳은 것은?

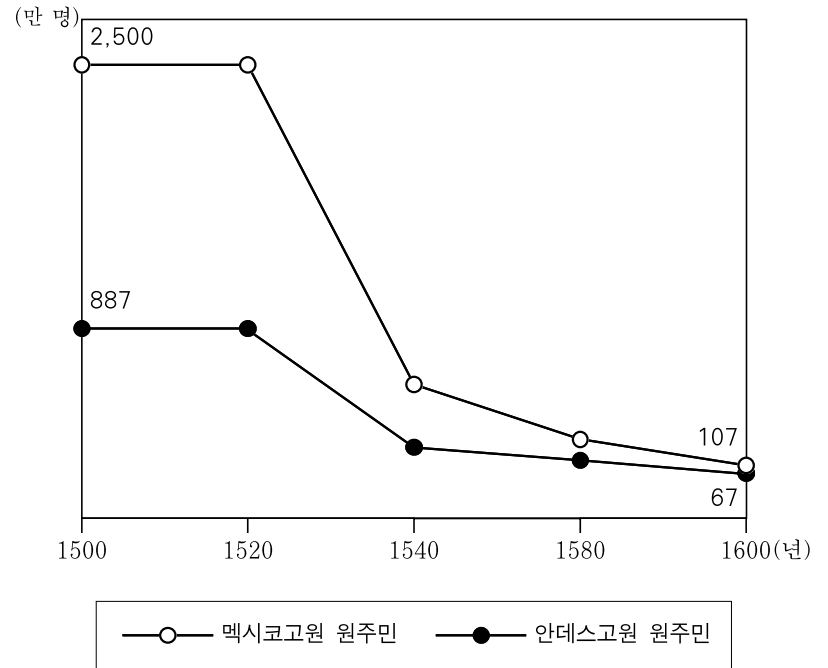


이 황제는 제위에 오른 후 남경 조정의 많은 관료들을 처형하고 변방의 세력을 약화시킨 뒤 자신의 근거지인 베이징으로 천도하였다. 또한, 환관 정화로 하여금 여러 차례에 걸쳐 대규모 향해를 추진하게 하였으나 막대한 비용이 들면서 국고를 탕진시켰다는 비판도 받는다.

- ① 육유를 반포하였다.
- ② 팔기제를 시행하였다.
- ③ 내각대학사를 설치하였다.
- ④ 내몽골과 조선을 침략하였다.
- ⑤ 네르친스크 조약을 체결하였다.

9. 그래프에 나타난 변화의 배경으로 가장 적절한 것은? [3점]

<멕시코고원 원주민과 안데스고원 원주민의 인구 변화>



* 출처 : 디르케 세계 지도, 1996.

- ① 가격 혁명이 나타났다.
- ② 동인도 회사가 만들어졌다.
- ③ 자크리의 난이 발생하였다.
- ④ 롬바르드 동맹이 활동하였다.
- ⑤ 플랜테이션 농장이 운영되었다.

10. (가) 인물에 대한 설명으로 옳은 것은?

토의 주제 : 서유럽의 군주들

[가]은/는 강력한 권력을 지녔던 프랑스의 군주였어.

그는 선대 군주들이 다져놓은 기반 하에서 통치에 전념했지.

그의 치세는 프랑스 절대왕정의 절정기를 이뤘고, '위대한 세기'라 일컬어져.

- ① 신교도를 탄압하였다.
- ② 향해법을 제정하였다.
- ③ 권리 장전에 서명하였다.
- ④ 상수시 궁전을 건설하였다.
- ⑤ 계몽 전제 군주를 자처하였다.

11. (가) 황제에 대한 설명으로 옳은 것은? [3점]

세계사 교양 강좌

무굴 제국의 번영, 그 중심에 서다 - (가)

우리 학회는 이번 주 강의에서 무굴 제국의 황제로서 최대 영역을 확보한 (가) 황제의 업적에 대하여 알아보기로 하였습니다. 관심 있는 학생분들의 많은 참여 부탁드립니다.

▣ 강의 내용 ▣

제국 역사상 최대 영역을 확보한 (가) 황제,
그는 어떤 군주였을까?


- ① 지즈야를 부활시켰다.
- ② 타지마할을 건립하였다.
- ③ 마누 법전을 정비하였다.
- ④ 델리 술탄 왕조를 무너뜨렸다.
- ⑤ 데브시르메 제도를 시행하였다.

12. (가) 운동에 대한 설명으로 옳은 것은?

이 사람은 『일본변정고』, 『이대피득변정기』를 저술하여 청이 러시아의 표트르 대제와 일본의 메이지 유신을 본떠 개혁해야 할 것을 주장하였고 실제로 (가) 을/를 주도하여 이를 실현하고자 하였어요.

- 모든 신하와 크게 맹세하여 국시 확정
- 어진 인재를 뽑을 수 있는 대책 수립

- 강유웨이 전집 -



- ① 잡지 “신청년”을 간행하였다.
- ② 천조전무 제도를 발표하였다.
- ③ 중체서용을 바탕으로 추진되었다.
- ④ 8개국 연합군에 의해 종식되었다.
- ⑤ 입헌 군주제의 도입을 지향하였다.

13. (가), (나) 시기 사이에 있었던 사실로 옳은 것은? [3점]

(가) 어젯밤 우리의 전사들이 보스턴 항구에 잠입하여 동인도 회사의 선박에 실려 있던 차 상자들을 바다로 던져 버린 사건이 발생하였다. ... (중략) ... 이는 영국 정부의 노골적인 협박에 굴복하지 않은 담대한 도전이자 애국적인 행위였다.

(나) 우리 대륙군은 수세에 몰린 영국군을 압박하며 요크타운을 향해 신속하게 진격하였다. 한편 그라스 장군은 우리와 합세하기 위해 프랑스 함대와 지원 부대를 이끌고 요크강으로 향하였다.

- ① 7년 전쟁이 종결되었다.
- ② 렉싱턴 전투가 벌어졌다.
- ③ 파리 조약이 체결되었다.
- ④ 하노버 왕조가 수립되었다.
- ⑤ 미국 연방 헌법이 제정되었다.

14. 밑줄 친 ‘조약’에 대한 설명으로 옳은 것은?

황제가 보헤미아의 신교도들을 탄압하자 그들은 황제에 대항하여 반란을 일으켰다. 이를 무력으로 진압하며 시작된 전쟁은 초기에는 두 종교 세력의 치열한 다툼이 주를 이루었으나, 유럽 왕가들이 여기에 가담하면서 점차 대륙의 패권 장악을 위한 국제전으로 변모하였다. 이에 막대한 피해를 입은 양측은 전쟁을 종결하기 위하여 오스나브뤼크와 민스터에서 회의를 열어 조약을 체결하였다.

- ① 종교 재판소를 설치하였다.
- ② 스위스의 독립을 승인하였다.
- ③ 국교도에게만 공직을 허용하였다.
- ④ 신성로마제국의 해체를 규정하였다.
- ⑤ 국왕이 교회의 수장임을 천명하였다.

15. 밑줄 친 ‘공동체’에 대한 설명으로 옳은 것은? [3점]

황제 폐하의 자비로운 선언은 백성의 노예화를 억제하였습니다. 그러나 일부 농노 소유주들은 법과는 반대로 전체 토지 중에서 가장 좋은 것을 자신이 선택하고 가장 나쁜 토지를 불쌍한 농민들에게 배분하고 있습니다. ... (중략) ... 우리 공동체는 법령과 일치하는 토지를 할당해 달라고 요청하였으나 ... (중략) ... 주지사는 군인 1,200명을 우리 마을에 파견하여 사람들을 처벌하였습니다.

- ① 인민헌장을 발표하였다.
- ② 부르봉 왕조를 붕괴시켰다.
- ③ 토지 소유권을 부여받았다.
- ④ 뉴래나크 협동촌을 건설하였다.
- ⑤ 데카브리스트의 봉기를 주도하였다.

16. (가) 제국에 대한 설명으로 옳은 것은?

(가) 제국의 역사는 아나톨리아 서쪽 변두리 지역의 작은 세력으로부터 시작되었다. 그들은 뛰어난 군사적 재능으로 여러 지역을 점령하였다. 이러한 영토 팽창은 앙카라에서 티무르의 군대에 패하며 잠시 주춤하였지만, 강력한 해군과 정예 부대를 앞세워 베네치아·헝가리·비잔티움과의 전투에서 승리하며 재기하는 데 성공하였다.

- ① 몽골군에 멸망하였다.
- ② 베오그라드를 점령하였다.
- ③ 이스파한으로 수도를 옮겼다.
- ④ 이베리아반도까지 영토를 확장하였다.
- ⑤ 시아파 이슬람교를 국교로 지정하였다.

17. 밑줄 친 ㉠이 일어난 시기를 연표에서 옳게 고른 것은? [3점]

㉠독일의 외무장관 치머만이 멕시코 주재 독일 대사에게 미국을 공격하라는 암호 전문을 보냈다. 이미 독일의 무제한 잠수함 작전으로 인하여 미국의 비무장 선박인 루시타니아호가 침몰된 상황에서 암호 전문이 언론에 공개되자 미국의 참전을 요구하는 목소리가 급격히 높아졌고, 결국 미국은 연합국의 일원으로 참전할 것을 선언하였다.

	(가)	(나)	(다)	(라)	(마)
사라예보 사건	독일의 벨기에 침공	영국의 북해 봉쇄	볼셰비키 혁명	킬 군항의 반란 발생	베르사유 조약 체결

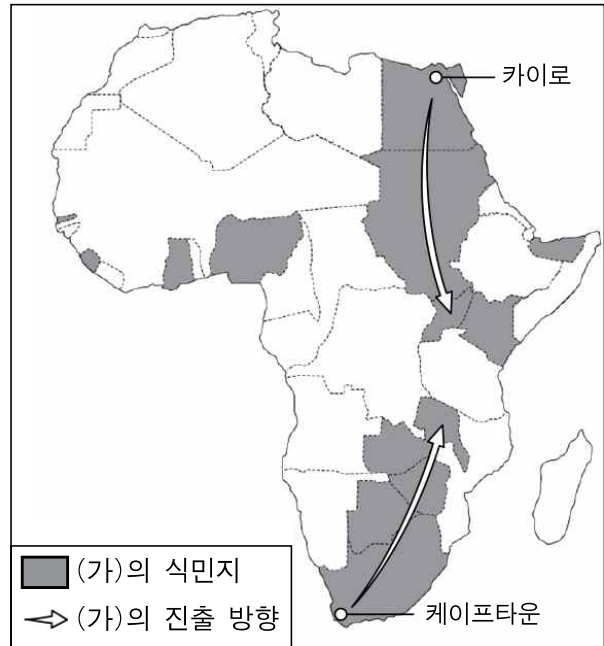
- ① (가) ② (나) ③ (다) ④ (라) ⑤ (마)

18. 밑줄 친 '내 뜻'에 대한 설명으로 옳은 것은?

○○에게.
 광은 무사히 잘 다녀왔소. 그곳에서 고민해 본 미국의 앞날을 당신께 알리기 위해 이렇게 편지를 보내오. 만약 미국이 베트남에 개입하지 않았더라면 지금쯤 인도네시아도 공산화가 되었을 것이요. 그러나 미국인은 전쟁에 지쳤소. 따라서 미국은 앞으로 파병을 자제하고, 아시아는 그들 스스로의 힘으로 지키게 할 것이요. 이처럼 나는 내 뜻을 비로소 정했으니, 이 편지를 읽고 당신이 꼭 함께해주길 바라오.

- ① 북미 자유 무역 협정을 발효시켰다.
- ② 제1차 비동맹 회의에 영향을 끼쳤다.
- ③ 냉전 체제의 완화 분위기를 조성하였다.
- ④ 바덴사와 자유 노조의 승리를 인정하였다.
- ⑤ 북대서양 조약 기구 결성의 계기가 되었다.

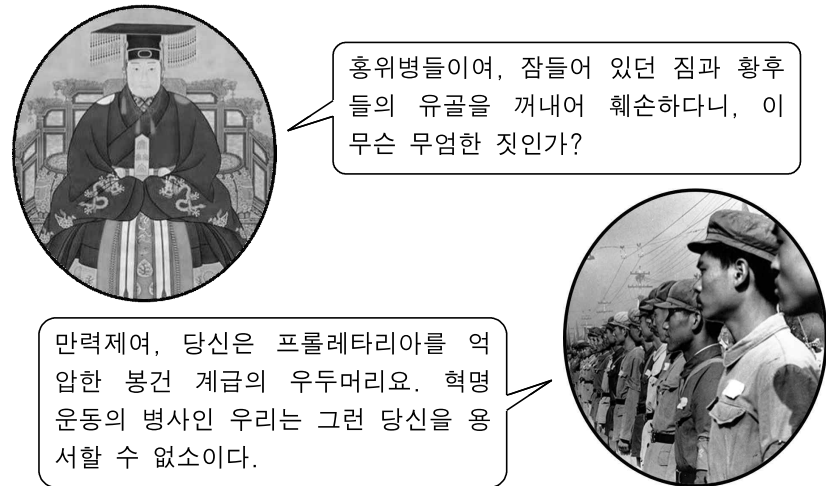
19. (가) 국가에 대한 설명으로 옳은 것만을 <보기>에서 고른 것은? [3점]



<보 기>
 가. 인도차이나 연방을 수립하였다.
 나. 수에즈 운하의 관리권을 장악하였다.
 다. 자카르타를 거점으로 향신료 무역을 하였다.
 르. 오스트레일리아와 뉴질랜드를 자치령으로 삼았다.

- ① 가, 나 ② 가, 다 ③ 나, 다 ④ 나, 르 ⑤ 다, 르

20. 다음 가상 대화에 대한 탐구 주제로 가장 적절한 것은?



만력제여, 당신은 프롤레타리아를 억압한 봉건 계급의 우두머리요. 혁명운동의 병사인 우리는 그런 당신을 용서할 수 없소이다.



- ① 인민 공사 조직의 배경
- ② 베이징 점령과 북벌의 완성
- ③ 중국 공산당의 대장정 경위
- ④ 마오쩌둥의 정치적 위기 극복 방침
- ⑤ 텐안먼 광장에서의 민주화 요구 운동

* 확인 사항
 ○ 답안지의 해당란에 필요한 내용을 정확히 기입(표기)했는지 확인하시오.

정답표

문항	정답	배점	문항	정답	배점	문항	정답	배점	문항	정답	배점
1	①	3	6	⑤	2	11	①	3	16	②	2
2	④	2	7	④	3	12	⑤	2	17	③	3
3	②	3	8	③	2	13	②	3	18	③	2
4	①	2	9	⑤	3	14	②	2	19	④	3
5	⑤	3	10	①	2	15	③	3	20	④	2

돌담길 모의평가(세계사)